



**B.A./B.B.A./B.C.A./B.Sc./B.S.W. V Semester Degree
Examination, April/May - 2024**

MANAGEMENT

SEC : Employability Skills

(NEP)

Time : 2 Hours

Maximum Marks : 50

Note : Answer **all** the sections.

ಸೂಚನೆ : ಎಲ್ಲಾ ವಿಭಾಗಗಳಿಗೂ ಉತ್ತರಿಸಿ.

Instructions to the candidates

ಅಭ್ಯರ್ಥಿಗಳಿಗೆ ಸೂಚನೆಗಳು

1. The question paper will be given in the form of a question booklet.

ಪ್ರಶ್ನೆಪತ್ರಿಕೆಯನ್ನು ಪುಸ್ತಿಕೆಯ ರೂಪದಲ್ಲಿ ಕೊಡಲಾಗುವುದು.

2. Immediately after the commencement of the examination, the candidate should check the question booklet supplied to him/her contains all the 50 questions in serial order.

ಪರೀಕ್ಷೆ ಪ್ರಾರಂಭವಾದ ನಂತರ, ಅಭ್ಯರ್ಥಿಯು ತನಗೆ ಸರಬರಾಜು ಮಾಡಿದ ಪ್ರಶ್ನೆಪುಸ್ತಕವನ್ನು ಪರಿಶೀಲಿಸಬೇಕು, ಪ್ರಶ್ನೆಪುಸ್ತಕವು 50 ಪ್ರಶ್ನೆಗಳನ್ನು ಸರಣಿ ರೂಪದಲ್ಲಿರುವುದನ್ನು ಖಾತರಿಪಡಿಸಿಕೊಳ್ಳುತ್ತಕ್ಕದ್ದು.

3. The question booklet does not have unprinted or torn or missing pages and if so, he/she should bring it to the notice of the invigilator and get it replaced by a complete Booklet. This is most important.

ಪ್ರಶ್ನೆಪುಸ್ತಿಕೆಯು ಮುದ್ರಿತ ಆಗದಿರುವ/ಹರಿದಿರುವ/ಇಲ್ಲದೇ ಇರುವ ಪುಟಗಳನ್ನು ಹೊಂದಿರುವುದಿಲ್ಲ, ಹಾಗಿದ್ದಲ್ಲಿ ವಿದ್ಯಾರ್ಥಿಗಳು ಕೊಠಡಿ ಮೇಲ್ವಿಚಾರಕರ ಗಮನಕ್ಕೆ ತರುವುದು ಹಾಗೂ ಪ್ರಶ್ನೆಪುಸ್ತಿಕೆಯನ್ನು ಬದಲಿಸಿಕೊಳ್ಳುವುದು (ಹೊಸದನ್ನು ಕೇಳಿ ಪಡೆಯುವುದು), ಇದು ಮುಖ್ಯವಾದುದಾಗಿದೆ.

4. Blank pages of the question booklet may be used for rough work.

ಪ್ರಶ್ನೆಪುಸ್ತಿಕೆಯ ಖಾಲಿ ಪುಟಗಳನ್ನು ಕಚ್ಚಾ ಕೆಲಸಕ್ಕೆ/rough work ಗೆ ಉಪಯೋಗಿಸಬಹುದು.



5. Each question is provided with four choices (A), (B), (C) and (D) having one correct answer. Choose the correct answer and darken the bubble corresponding to the question number using Ball pen in the OMR answer sheet.

ಪ್ರತಿಪ್ರಶ್ನೆಗೆ ನಾಲ್ಕು ಆಯ್ಕೆಗಳನ್ನು ಒದಗಿಸಲಾಗಿದೆ (A), (B), (C) ಮತ್ತು (D), ಅವುಗಳಲ್ಲಿ ಒಂದು ಸರಿಯಾದ ಉತ್ತರವನ್ನು ಹೊಂದಿದೆ. ಸರಿಯಾದ ಉತ್ತರವನ್ನು ಆರಿಸಿ ಮತ್ತು OMR ಉತ್ತರ ಪತ್ರಿಕೆಯಲ್ಲಿ ಬಾಲ್ ಪೆನ್ ಅನ್ನು ಬಳಸಿ ಪ್ರಶ್ನೆ ಸಂಖ್ಯೆಗೆ ಅನುಗುಣವಾಗಿ ಬಬಲ್ ಅನ್ನು ತುಂಬಿ.

Correct Method ಸರಿಯಾದ ಕ್ರಮ	Wrong Methods/ತಪ್ಪು ಕ್ರಮಗಳು
(A) ● (C) (D)	(A) (B) (C) (D) (A) (B) (C) (D) (A) ● ● (D)
	● (A) (B) (C) (D) (A) ● (C) (D)

6. Each correct answer carries 1 mark and no negative mark for wrong answer.

ಸರಿಯಾದ ಉತ್ತರವು ಒಂದು ಅಂಕವನ್ನು ಹೊಂದಿರುತ್ತದೆ ಮತ್ತು ತಪ್ಪು ಉತ್ತರಕ್ಕೆ ಋಣಾತ್ಮಕ ಅಂಕಗಳಿಲ್ಲ.

7. No candidate will be allowed to leave the examination hall till the end of the session without handing over, his/her answer sheet to the invigilator. Candidate also has to ensure all the particulars/columns in his/her OMR is filled correctly before handing over the OMR sheet to invigilator.

ಪರೀಕ್ಷೆ ಮುಗಿದ ನಂತರ ಪ್ರಶ್ನೆಪುಸ್ತಕವನ್ನು ಕೊಠಡಿ ಮೇಲ್ವಿಚಾರಕರಿಗೆ ನೀಡದೆ ಮತ್ತು ಪರೀಕ್ಷೆ ಸಮಯ ಮುಗಿಯುವವರೆಗೆ ಕೊಠಡಿಯಿಂದ ತೆರಳುವ ಹಾಗಿಲ್ಲ. ಕೊಠಡಿ ಮೇಲ್ವಿಚಾರಕರಿಗೆ ಪ್ರಶ್ನೆಪುಸ್ತಕವನ್ನು ನೀಡುವ ಮುನ್ನ ತಮ್ಮ OMR ಪತ್ರಿಕೆಯಲ್ಲಿ ಅವಶ್ಯಕವಿರುವ ಎಲ್ಲಾ ಮಾಹಿತಿಯನ್ನು ಸರಿಯಾಗಿ ನಮೂದಿಸಿದ್ದೀರಿ ಎಂದು ಖಚಿತಪಡಿಸಿಕೊಳ್ಳುವುದು.

8. Strict compliance of instructions is essential. Any Malpractice or attempt to commit any kind of Malpractice in the examination will result in the disqualification of the candidate.

ಕೊಠಡಿ ಮೇಲ್ವಿಚಾರಕರ ಸೂಚನೆಗಳನ್ನು ಕಟ್ಟುನಿಟ್ಟಾಗಿ ಪಾಲಿಸತಕ್ಕದ್ದು, ತಪ್ಪಿದಲ್ಲಿ ಅಂತಹ ಅಭ್ಯರ್ಥಿಗಳನ್ನು ಅನರ್ಹಗೊಳಿಸಲಾಗುವುದು.

9. Use of Simple/non-Programmable calculators are allowed.

ಸರಳ ಕ್ಯಾಲ್ಕುಲೇಟರ್ ಅನ್ನು ಬಳಸಬಹುದು.

10. In case of any discrepancy between English and Kannada versions, the English version will be taken as final.

ಇಂಗ್ಲೀಷ್ ಮತ್ತು ಕನ್ನಡ ಆವೃತ್ತಿಗಳ (ಪ್ರಶ್ನೆಗಳ) ನಡುವೆ ಯಾವುದೇ ವ್ಯತ್ಯಾಸಗಳಿದ್ದಲ್ಲಿ, ಇಂಗ್ಲೀಷ್ ಆವೃತ್ತಿಯನ್ನು ಅಂತಿಮವಾಗಿ ಪರಿಗಣಿಸುವುದು.

11. English Section questions from Q. No : 37 to Q. No : 48 are in English Only. The rest questions are in bilingual form (English + Kannada).

ಇಂಗ್ಲೀಷ್ ವಿಭಾಗದ ಪ್ರಶ್ನೆಗಳು ಪ್ರ. ಸಂ : 37 ರಿಂದ ಪ್ರ. ಸಂ : 48 ಗಳನ್ನು ಆಂಗ್ಲಮಾಧ್ಯಮದಲ್ಲಿ ಕೇಳಲ್ಪಟ್ಟಿರುತ್ತವೆ. ಇನ್ನುಳಿದ ಪ್ರಶ್ನೆಗಳನ್ನು ದ್ವಿಭಾಷೆ (ಇಂಗ್ಲೀಷ್ + ಕನ್ನಡದಲ್ಲಿ) ಕೇಳಲ್ಪಟ್ಟಿವೆ.



1. Which of the following are Central Government exams ?

- (A) SSC - CGL (B) UPSC - IAS
(C) Railway Exams (D) All of the above

ಈ ಕೆಳಗಿನವುಗಳಲ್ಲಿ ಕೇಂದ್ರ ಸರ್ಕಾರ ನಡೆಸುವ ಪರೀಕ್ಷೆಗಳು ಯಾವುವು ?

- (A) SSC - CGL (B) UPSC - IAS
(C) ರೈಲ್ವೆ ಪರೀಕ್ಷೆಗಳು (D) ಮೇಲಿನ ಎಲ್ಲವೂ

2. Which of the following are State Government exams ?

- (A) FDA (B) Police Constable
(C) Commercial Tax Inspector (D) All of the above

ಈ ಕೆಳಗಿನವುಗಳಲ್ಲಿ ರಾಜ್ಯಸರ್ಕಾರ ನಡೆಸುವ ಪರೀಕ್ಷೆಗಳು ಯಾವುವು ?

- (A) FDA (B) ಪೊಲೀಸ್ ಪೇದೆ
(C) ವಾಣಿಜ್ಯ ತೆರಿಗೆ ಪರಿವೀಕ್ಷಕರು (D) ಮೇಲಿನ ಎಲ್ಲವೂ

3. NABARD stands for :

NABARD ಎಂದರೆ :

- (A) National Banks for Agriculture and Rural Development
(B) National Board for Agriculture and Rural Development
(C) National Bank for Agriculture and Road Development
(D) National Bank for Aviation and Road Development



4. Which of the following exams you have to apply to become probationary officer at Grameena Bank ?

- (A) IBPS - PO (B) IBPS - SO
(C) IBPS - RRB - PO (D) None of the above

ಗ್ರಾಮೀಣ ಬ್ಯಾಂಕ್‌ಗಳಲ್ಲಿ ಪ್ರೊಬೇಷನರಿ ಆಫೀಸರ್/ಅಧಿಕಾರಿ ಆಗಲು, ಈ ಕೆಳಗಿನ ಯಾವುದಕ್ಕೆ ಅರ್ಜಿ ಸಲ್ಲಿಸಬೇಕು ?

- (A) IBPS - PO (B) IBPS - SO
(C) IBPS - RRB - PO (D) ಮೇಲಿನ ಯಾವುದೂ ಅಲ್ಲ

5. Which of the following Jobs are not part of Railway Recruitment Board (RRB) ?

- (A) SSC - JE (B) Senior clerk cum typist
(C) Goods Guard (D) Station Master

ಈ ಕೆಳಗಿನ ಯಾವ ಉದ್ಯೋಗಗಳು ರೈಲ್ವೆ ನೇಮಕಾತಿ ಮಂಡಳಿಯ ಭಾಗವಾಗಿಲ್ಲ :

- (A) SSC - JE (B) ಹಿರಿಯ ಗುಮಾಸ್ತ ಅಥವಾ ಟೈಪಿಸ್ಟ್
(C) ಸರಕು ಸಿಬ್ಬಂದಿ (D) ಸ್ಟೇಷನ್ ಮಾಸ್ಟರ್

6. What is the minimum Education Qualification required to become a bank employee ?

- (A) SSLC (B) PUC
(C) Any degree (D) None of the above

ಬ್ಯಾಂಕ್ ಉದ್ಯೋಗಿಯಾಗಲು ಅಗತ್ಯವಿರುವ ಕನಿಷ್ಠ ಶಿಕ್ಷಣ ಅರ್ಹತೆ ಏನು ?

- (A) SSLC (B) PUC
(C) ಯಾವುದೇ ಪದವಿ (D) ಮೇಲಿನ ಯಾವುದೂ ಅಲ್ಲ

7. UPSC Stands for :

UPSC ಎಂದರೆ :

- (A) Union Public Service Council
(B) Union Public Service Committee
(C) Union Public Service Commission
(D) Union Public Service Contract

8. Employer pays _____ to the employees.

- (A) Commission (B) Salary (C) Wages (D) All of the above

ಉದ್ಯೋಗದಾತನು ತನ್ನ ಉದ್ಯೋಗಿಗಳಿಗೆ _____ ನೀಡುತ್ತಾನೆ.

- (A) ಕಮಿಷನ್ (B) ಸಂಬಳ (C) ವೇತನ/ಮಜೂರಿ (D) ಮೇಲಿನ ಎಲ್ಲವೂ



9. In SSC-CGL, CGL stands for :

SSC-CGL ಲ್ಲಿ, CGL ಎಂದರೆ :

- (A) Combined Graduate Law (B) Combined Graduate Level
(C) Combined Group Law (D) Combined Group Level

10. Who conducts exam for the post of APC (Armed Police Constable) in Karnataka ?

ಕರ್ನಾಟಕದಲ್ಲಿ APC (ಸಶಸ್ತ್ರ ಪೊಲೀಸ್ ಪೇದೆ/ಕಾನ್‌ಸ್ಟೇಬಲ್) ಹುದ್ದೆಗೆ ಪರೀಕ್ಷೆಯನ್ನು ಯಾರು ನಡೆಸುತ್ತಾರೆ ?

- (A) KSP (B) UPSC - NDA (C) UPSC - IPS (D) SSC

11. Complete the Series :

ಸರಣಿಯನ್ನು ಪೂರ್ಣಗೊಳಿಸಿ :

BF, CH, ?, HD, LT

- (A) FG (B) EK (C) CE (D) FJ

12. Complete the series :

ಸರಣಿಯನ್ನು ಪೂರ್ಣಗೊಳಿಸಿ :

1, 4, 9, 16, 25, ?

- (A) 40 (B) 36 (C) 35 (D) 49

13. Find the HCF of 140 and 200 by division method.

ವಿಭಜನೆಯ ವಿಧಾನದಿಂದ 140 ಮತ್ತು 200 ಮ.ಸಾ.ಅ. ಅನ್ನು ಕಂಡುಹಿಡಿಯಿರಿ.

- (A) 40 (B) 30 (C) 20 (D) 10

14. Find the LCM of 14, 56, 91 and 84 by division method.

ವಿಭಜನೆಯ ವಿಧಾನದಿಂದ 14, 56, 91 ಮತ್ತು 84 ರ ಲ.ಸಾ.ಅ. ಅನ್ನು ಕಂಡುಹಿಡಿಯಿರಿ.

- (A) 2184 (B) 2854 (C) 2764 (D) 2844



15. Complete the series :

ಸರಣಿಯನ್ನು ಪೂರ್ಣಗೊಳಿಸಿ :

22, 21, 23, 22, 24, 23, ?

(A) 22 (B) 25 (C) 24 (D) 26

16. Rent of the house is increased from Rs. 5000/- to Rs. 5500/-. Express the increase in price as a percentage of the original rent.

ಮನೆಯ ಬಾಡಿಗೆಯನ್ನು ರೂ. 5000/- ರಿಂದ ರೂ. 5500/- ಕ್ಕೆ ಹೆಚ್ಚಿಸಲಾಗಿದೆ, ಮೂಲ ಬಾಡಿಗೆಯ ಶೇಕಡಾವಾರು ಬೆಲೆಯಲ್ಲಿ ಹೆಚ್ಚಳವನ್ನು ವ್ಯಕ್ತಪಡಿಸಿ.

(A) 5% (B) 15% (C) 8% (D) 10%

17. By selling a table for Rs. 660/-, a trader gains 10%. Find the cost price of the table.

ರೂ. 660/- ಕ್ಕೆ ಟೇಬಲ್ ಅನ್ನು ಮಾರಾಟ ಮಾಡುವ ಮೂಲಕ ವ್ಯಾಪಾರಿ 10% ಗಳಿಸುತ್ತಾನೆ, ಮೇಜಿನ ವೆಚ್ಚದ ಮುಖ್ಯ/ಮೂಲ ಬೆಲೆಯನ್ನು ಕಂಡುಹಿಡಿಯಿರಿ.

(A) 600 (B) 610 (C) 620 (D) 650

18. Complete the Series :

ಸರಣಿಯನ್ನು ಪೂರ್ಣಗೊಳಿಸಿ :

7, 10, 8, 11, 9, 12, ?

(A) 7 (B) 10 (C) 12 (D) 13

19. Find the interest to be paid on a loan of Rs. 10,000/- at 5% per year for 5 years.

5 ವರ್ಷಗಳವರೆಗೆ ವರ್ಷಕ್ಕೆ 5% ರಂತೆ ರೂ. 10,000/- ಸಾಲದ ಮೇಲೆ ಪಾವತಿಸಬೇಕಾದ ಬಡ್ಡಿಯನ್ನು ಕಂಡುಹಿಡಿಯಿರಿ.

(A) Rs. 2000/- (B) Rs. 2500/- (C) Rs. 2400/- (D) Rs. 2200/-



20. 'A' can do a piece of work in 6 days, 'B' can do the same work in 7 days. How long will they take if both work together ?

- (A) $3\frac{3}{13}$ days (B) $3\frac{2}{13}$ days (C) $3\frac{4}{13}$ days (D) $3\frac{5}{13}$ days

'A' ಒಂದು ಕೆಲಸವನ್ನು 6 ದಿನಗಳಲ್ಲಿ ಮಾಡಬಹುದು. 'B' ಅದೇ ಕೆಲಸವನ್ನು 7 ದಿನಗಳಲ್ಲಿ ಮಾಡಬಹುದು. ಇಬ್ಬರೂ ಒಟ್ಟಿಗೆ ಕೆಲಸಮಾಡಲು ಎಷ್ಟು ಸಮಯ ತೆಗೆದುಕೊಳ್ಳುತ್ತಾರೆ ?

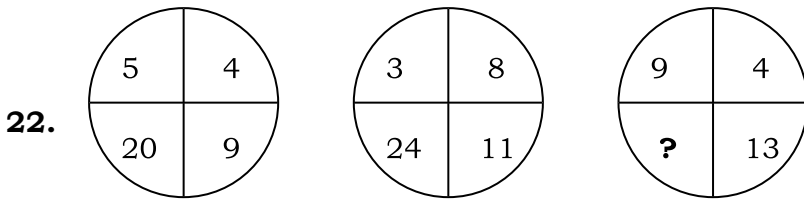
- (A) $3\frac{3}{13}$ ದಿನಗಳು (B) $3\frac{2}{13}$ ದಿನಗಳು (C) $3\frac{4}{13}$ ದಿನಗಳು (D) $3\frac{5}{13}$ ದಿನಗಳು

21. There are 30 students in class. The average age of the first 10 students is 12.5 years, the average age of the next 20 students is 13.1 years. The average age of the whole class is :

- (A) 12.5 years (B) 12.7 years (C) 12.8 years (D) 12.9 years

ತರಗತಿಯಲ್ಲಿ 30 ವಿದ್ಯಾರ್ಥಿಗಳಿದ್ದಾರೆ, ಮೊದಲ 10 ವಿದ್ಯಾರ್ಥಿಗಳ ಸರಾಸರಿ ವಯಸ್ಸು 12.5 ವರ್ಷಗಳು, ಮುಂದಿನ 20 ವಿದ್ಯಾರ್ಥಿಗಳ ಸರಾಸರಿ ವಯಸ್ಸು 13.1 ವರ್ಷಗಳು, ಇಡೀ ತರಗತಿಯ ಸರಾಸರಿ ವಯಸ್ಸು ಎಷ್ಟು ?

- (A) 12.5 ವರ್ಷಗಳು (B) 12.7 ವರ್ಷಗಳು (C) 12.8 ವರ್ಷಗಳು (D) 12.9 ವರ್ಷಗಳು



What number should come at the question mark ?

ಪ್ರಶ್ನಾರ್ಥಕ ಚಿಹ್ನೆ ಇರುವಲ್ಲಿ ಯಾವ ಸಂಖ್ಯೆ ಬರಬೇಕು ?

- (A) 36 (B) 26 (C) 66 (D) 56



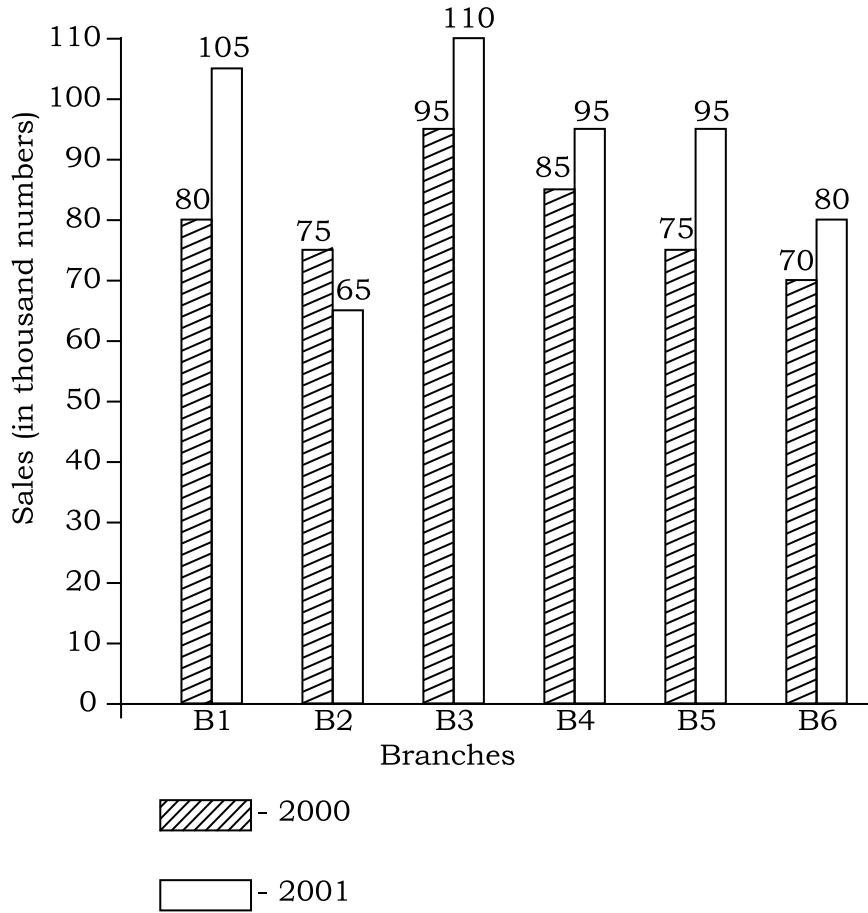
Instruction for Q. No. 23 to 27 :

The Bar graph given below shows the sales of books (in thousand numbers) from Six branches of a publishing company during two consecutive years 2000 and 2001.

ಈ ಕೆಳಗೆ ನೀಡಲಾದ ಬಾರ್ ಗ್ರಾಫ್ 2000 ಮತ್ತು 2001 ರ ಸತತ ಎರಡು ವರ್ಷಗಳಲ್ಲಿ ಪ್ರಕಾಶನ ಕಂಪನಿಯ ಆರು ಶಾಖೆಗಳಿಂದ ಮಾರಾಟವಾದ ಪುಸ್ತಕಗಳ ಸಂಖ್ಯೆಯನ್ನು ತೋರಿಸುತ್ತದೆ (ಸಾವಿರ ಸಂಖ್ಯೆಯಲ್ಲಿ).

Sales of books (in thousand numbers) from Six branches - B1, B2, B3, B4, B5 and B6 of a publishing company in 2000 and 2001.

2000 ಮತ್ತು 2001 ರಲ್ಲಿ ಪ್ರಕಾಶನ ಕಂಪನಿಯ B1, B2, B3, B4, B5 ಮತ್ತು B6 ಆರು ಶಾಖೆಗಳಿಂದ ಆಗಿರುವ ಪುಸ್ತಕಗಳ ಮಾರಾಟ (ಸಾವಿರ ಸಂಖ್ಯೆಯಲ್ಲಿ)



23. What is the ratio of the total sales of branches B2 for both years to the total sales of branch B4 for both years ?

ಎರಡೂ ವರ್ಷಗಳ B2 ಶಾಖೆಯ ಒಟ್ಟು ಮಾರಾಟದ ಅನುಪಾತ ಮತ್ತು ಎರಡೂ ವರ್ಷಗಳ B4 ಶಾಖೆಯ ಒಟ್ಟು ಮಾರಾಟದ ಅನುಪಾತ ಏನು ?

- (A) 2 : 3 (B) 3 : 5 (C) 4 : 5 (D) 7 : 9



24. Total sales of Branch B6 for both the years is what percent of the total sales of branches B3 for both the years ?

ಎರಡೂ ವರ್ಷಗಳ B6 ಶಾಖೆಯ ಒಟ್ಟು ಮಾರಾಟವು ಎರಡು ವರ್ಷಗಳ B3 ಶಾಖೆಯ ಒಟ್ಟು ಮಾರಾಟದ ಶೇಕಡಾವಾರು ಎಷ್ಟು ?

(A) 68.54% (B) 71.11% (C) 73.17% (D) 75.55%

25. What is the average sales of all the six branches (in thousand numbers) for the year 2000 ?

2000 ವರ್ಷದಲ್ಲಿ/ಕ್ಕೆ ಎಲ್ಲಾ ಆರು ಶಾಖೆಗಳ (ಸಾವಿರ ಸಂಖ್ಯೆಯಲ್ಲಿ) ಸರಾಸರಿ ಮಾರಾಟ ಎಷ್ಟು ?

(A) 73 (B) 80 (C) 83 (D) 88

26. Total sales of Branches B1, B3, B5 together for both the years (in thousand number) is :

B1, B3, B5 ಶಾಖೆಗಳ ಒಟ್ಟು ಮಾರಾಟ - ಎರಡೂ ವರ್ಷಗಳಲ್ಲಿ (ಸಾವಿರ ಸಂಖ್ಯೆಯಲ್ಲಿ) ಇದೆ :

(A) 250 (B) 310 (C) 435 (D) 560

27. Total sales of branches B2, B4, B6 together for both the years (in thousand numbers) is :

B2, B4, B6 ಶಾಖೆಗಳ ಒಟ್ಟು ಮಾರಾಟ ಎರಡೂ ವರ್ಷಗಳಲ್ಲಿ (ಸಾವಿರ ಸಂಖ್ಯೆಯಲ್ಲಿ) ಇದೆ :

(A) 470 (B) 435 (C) 440 (D) 455

28. "SPECIAL" is written as '65' in a certain code language. What will "CONNECT" be coded as ?

ಒಂದು ಕೋಡ್ ಭಾಷೆಯ ಪ್ರಕಾರ "SPECIAL" ಅನ್ನು '65' ಎಂದು ಬರೆಯಲಾಗಿದೆ, ಅದೇ ಕೋಡ್ ಭಾಷೆಯಲ್ಲಿ "CONNECT" ಅನ್ನು ಹೇಗೆ ಬರೆಯಬಹುದು ?

(A) 70 (B) 64 (C) 32 (D) 74

29. In a certain code "FROZEN" is written as "OFAPSG". Then how would "MOLTEN" be written in that code ?

ಒಂದು ಕೋಡ್ ಭಾಷೆಯಲ್ಲಿ "FROZEN" ಅನ್ನು "OFAPSG" ಎಂದು ಬರೆಯಲಾಗಿದೆ. ಅದೇ ಕೋಡ್ ಭಾಷೆಯಲ್ಲಿ "MOLTEN" ಅನ್ನು ಹೇಗೆ ಬರೆಯಬಹುದು ?

(A) OFPOMN (B) OFSMPN (C) OFUMPN (D) OFUNPM



Instruction for Q. No. 30 and 31 :

In the following questions select the related word from the given alternatives.

ಕೆಳಗಿನ ಪ್ರಶ್ನೆಗಳಲ್ಲಿ ನೀಡಿರುವ ಪರ್ಯಾಯಗಳಿಂದ ಸಂಬಂಧಿಸಿದ ಪದವನ್ನು ಆಯ್ಕೆ ಮಾಡಿ.

30. Smoke : Pollution :: War : ?

(A) Victory (B) Peace (C) Treaty (D) Destruction

ಹೊಗೆ : ಮಾಲಿನ್ಯ :: ಯುದ್ಧ : ?

(A) ಗೆಲುವು (B) ಶಾಂತಿ (C) ಒಪ್ಪಂದ (D) ವಿನಾಶ

31. Flow : River :: Stagnant : ?

(A) Pool (B) Rain (C) Stream (D) Canal

ಹರಿವು : ನದಿ :: ಸ್ಥಗಿತ : ?

(A) ಕೊಳ (B) ಮಳೆ (C) ಸ್ತೀಮ್/ಹೊಳೆ (D) ಕಾಲುವೆ

32. A and B are married couple, X and Y are brothers of A. How is Y related to B ?

(A) Brother-in-law (B) Brother

(C) Son-in-law (D) Cousin

A ಮತ್ತು B ವಿವಾಹಿತ ದಂಪತಿಗಳು, X ಮತ್ತು Y - A ಯ ಸಹೋದರರು Y ಹೇಗೆ B ಗೆ ಸಂಬಂಧಿಸಿದೆ ?

(A) ಸೋದರ ಮಾವ (B) ಅಣ್ಣ/ತಮ್ಮ

(C) ಅಳಿಯ (D) ಸೋದರ ಸಂಬಂಧಿ

33. A is the son of C ; C and Q are sisters ; Z is the mother of Q and P is the son of Z. Which of the following statement is true ?

(A) P and A are cousins

(B) P is the maternal uncle of A

(C) Q is the maternal grandfather of A

(D) C and P are sisters

A, C ಯ ಮಗ ; C ಮತ್ತು Q ಸಹೋದರಿಯರು ; Q ನ ತಾಯಿ Z ಮತ್ತು Z ನ ಮಗ P. ಈ ಕೆಳಗಿನ ಯಾವ ಹೇಳಿಕೆ ಸರಿಯಾಗಿದೆ ?

(A) P ಮತ್ತು A ಸೋದರ ಸಂಬಂಧಿ

(B) P, A ಯ ತಾಯಿಯ ಚಿಕ್ಕಪ್ಪ

(C) Q, A ಯ ತಾಯಿಯ ತಂದೆ

(D) C ಮತ್ತು P ಸಹೋದರಿಯರು



34. A man walking towards north after walking 100 mtrs turns right and walks 75 mtrs again, he turns right and walks 100 mtrs and last he turns left and walks 25 mtrs, now which direction he is walking ?

- (A) West (B) East (C) South (D) North

ಒಬ್ಬ ಮನುಷ್ಯನು ಉತ್ತರಕ್ಕೆ ಚಲಿಸುತ್ತಿದ್ದು, 100 ಮೀಟರ್ ನಡೆದ ನಂತರ ಬಲಕ್ಕೆ ತಿರುಗಿ 75 mtr. ನಡೆಯುತ್ತಾನೆ, ಪುನಃ ಬಲಕ್ಕೆ ತಿರುಗಿ 100 mtr ನಡೆಯುತ್ತಾನೆ. ಕೊನೆಯದಾಗಿ ಎಡಕ್ಕೆ ತಿರುಗಿ 25 mtr ನಡೆಯುತ್ತಾನೆ. ಈಗ ಯಾವ ದಿಕ್ಕಿನ ಕಡೆಗೆ ಚಲಿಸುತ್ತಿದ್ದಾನೆ ?

- (A) ಪಶ್ಚಿಮ (B) ಪೂರ್ವ (C) ದಕ್ಷಿಣ (D) ಉತ್ತರ

35. Smallest 4 digit number, which is perfect square ?

ಕೆಳಗಿನ ಸಂಖ್ಯೆಗಳಲ್ಲಿ ಯಾವುದು 4 ಸಂಖ್ಯೆಯ ಪರಿಪೂರ್ಣ ವರ್ಗಸಂಖ್ಯೆ ?

- (A) 1000 (B) 1022 (C) 1064 (D) 1024

36. A man walks 1 km east, now he turns south and walks 5 km again he turns east and walks 2 kms. At last he turns north and walks 9 kms. Now find that he is in which direction from the starting point ?

- (A) North west (B) South west (C) South east (D) North east

ಒಬ್ಬ ಮನುಷ್ಯನು ಪೂರ್ವಕ್ಕೆ 1 km ನಡೆಯುತ್ತಾನೆ, ಈಗ ಅವನು ದಕ್ಷಿಣಕ್ಕೆ ತಿರುಗಿ 5 km ನಡೆಯುತ್ತಾನೆ, ಪೂರ್ವಕ್ಕೆ ತಿರುಗಿ 2 kms ನಡೆಯುತ್ತಾನೆ. ಕೊನೆಯದಾಗಿ ಅವನು ಉತ್ತರಕ್ಕೆ ತಿರುಗಿ 9 kms ನಡೆಯುತ್ತಾನೆ. ಈಗ ಅವನು ಆರಂಭಿಸಿದ ಬಿಂದುವಿನಿಂದ ಯಾವ ದಿಕ್ಕಿನಲ್ಲಿದ್ದಾನೆ ?

- (A) ವಾಯವ್ಯ (B) ನೈಋತ್ಯ (C) ಆಗ್ನೇಯ (D) ಈಶಾನ್ಯ

37. Amongst the following ; Choose the mis-spelt word :

- (A) Itching (B) Interview (C) Interupt (D) Irregate



38. Amongst the following ; Choose mis-spelt one :

- (A) Demonstration (B) Tution
(C) Audience (D) Superiority

Instruction for Q. No. 39 and 40 :

Pick out the most effective word from the given words to fill in the blanks to make the sentences meaningfully complete.

39. His profession is teaching but his _____ is photography.

- (A) Vacation (B) Vocation (C) Vocative (D) Avocative

40. We are highly disappointed _____ exam results.

- (A) with (B) about (C) at (D) from

Instruction for Q. No. 41 and 42 :

In the following questions, an incomplete statement followed by some fillers is given, pick out the best one which can complete the incomplete statement correctly and meaningfully.

41. Wait here _____.

- (A) While I come back (B) Unless I return back
(C) Until I have comeback (D) Till I come back

42. Unless you work very hard _____.

- (A) You ought to be successful (B) You be not successful
(C) You are not being successful (D) You will not be successful



Instruction for Q. No. **43** and **44** :

43. Though she was sick / but / she went to work / No error.

- (A) Though she was sick (B) But
(C) She went to work (D) No error

44. I have lived/in Delhi/from 1965/No error.

- (A) I have lived (B) in Delhi (C) from 1965 (D) No error

Instruction for Q. No. **45**, **46** and **47** :

In each of the following questions, four alternatives are given for the Idiom/phrase underlined at the question places. Choose the alternative which best expresses the meaning of the Idiom/Phrase as your answers.

45. In the last budget, the government brought forward a new scheme of taxation.

- (A) Prioritized (B) Displayed (C) Notified (D) Introduced

46. The kind old woman received the stranger with open arms.

- (A) with her arms free (B) with warmth
(C) with restraint (D) with gratitude

47. To roll out the red carpet :

- (A) To buy a gift (B) To give a warning signal
(C) To decorate the room (D) To give a grand welcome

48. Select the most appropriate ANTONYM of the given word :

REBELLION

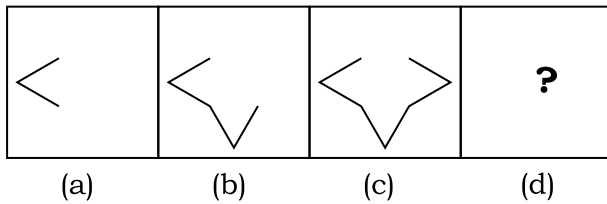
- (A) Uprising (B) Loyalty (C) Sedition (D) Allotment



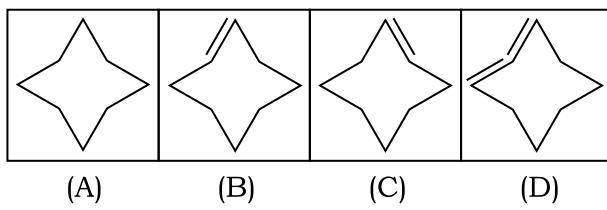
Instruction for Q. No. 49 and 50 :

Study the problem figures marked (a), (b), (c), and (d) carefully and try to establish the relationship between them. From the answer figures marked (A), (B), (C), and (D). Pick out the figure which most appropriately completes the series :

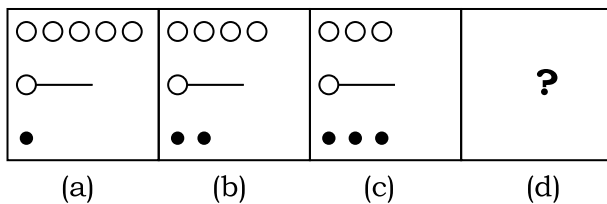
49. Problem figure :



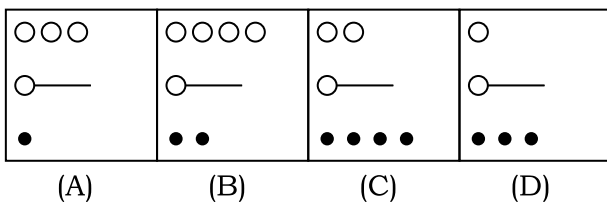
Answer figure :



50. Problem figure :



Answer figure :



SPACE FOR ROUGH WORK



21S4ES

16

SPACE FOR ROUGH WORK

